

川口市立文化財センター版





けんてい 川口検定

～わかるかな？知っているかな？川口のこと～

番号	問題	答えと解説
1	<p>国道122号は、川口市内を東西に走っている。○か×か。</p>	<p>答え：×（南北）</p> <p>解説：川口市内を通る大きな道路は主に2つあります。「国道122号（東北自動車道）」と「国道298号（東京外郭環状道路）」です。国道122号は市内を南北に、国道298号は東西に走っています。</p>
2	<p>川口市内にある京浜東北線の駅は、川口駅と（ ）である。</p> <p><input type="checkbox"/> ア 西川口駅 <input type="checkbox"/> イ 東浦和駅</p> <p><input type="checkbox"/> ウ 鳩ヶ谷駅</p>	<p>答え：ア 西川口駅</p> <p>解説：電車の中でも京浜東北線の駅は川口市内には2つしかありません。「川口駅」と「西川口駅」です。</p>
3	<p>川口市と東京都の間を流れている川は、（ ）である。</p> <p><input type="checkbox"/> ア 信濃川 <input type="checkbox"/> イ 利根川</p> <p><input type="checkbox"/> ウ 荒川</p>	<p>答え：ウ 荒川</p> <p>解説：信濃川は日本で最も長い川として有名な川で、新潟県・長野県を流れる川です。利根川は埼玉県北部を流れる川です。</p>
4	<p>土地の高いところを（ ）といい、川口市内では市の北東部に広がっている。</p> <p><input type="checkbox"/> ア 低地 <input type="checkbox"/> イ 台地</p> <p><input type="checkbox"/> ウ 農地</p>	<p>答え：イ 台地</p> <p>解説：台地には大昔から人が住んでいました。川口市内の大昔の遺跡はほとんど台地から発見されています。</p>
5	<p>川口市は、まわりを、わらび市、草加市、戸田市、（ ）、こしがや市、東京都に囲まれている。</p> <p><input type="checkbox"/> ア 川ごえ市 <input type="checkbox"/> イ さいたま市</p> <p><input type="checkbox"/> ウ 上尾市</p>	<p>答え：イ さいたま市</p> <p>解説：「川越市」と「上尾市」は川口市の北西の方角にあります。川越市に残る「蔵づくりの街並み」や「川越祭り」は埼玉県内でも有名です。</p>
6	<p>東北自動車道と東京外かくかんじょう道路がまじわっているところを（ ）という。</p> <p><input type="checkbox"/> ア 川口ジャンクション</p> <p><input type="checkbox"/> イ 新郷インターチェンジ</p> <p><input type="checkbox"/> ウ 浦和インターチェンジ</p>	<p>答え：ア 川口ジャンクション</p> <p>解説：川口市内の神根地区にあります。川口ジャンクションの近くには、「イイナパーク川口」があり、イイナパーク川口の中には「歴史自然資料館」もあります。</p>

7	川口市の「市の花」は、() である。 <input type="checkbox"/> ア さくら草 <input type="checkbox"/> イ てっぼうユリ <input type="checkbox"/> ウ ひまわり	答え：イ てっぼうユリ 解説：市の木は「サザンカ」です。 また、11月10日は「川口の日」です。
8	青木地区にある「彩の国ビジュアルプラザ」や「NHKアーカイブス」などが入っている施設を、()という。 <input type="checkbox"/> ア リリア <input type="checkbox"/> イ 川口市役所 <input type="checkbox"/> ウ SKIP シティ	答え：ウ SKIP シティ 解説：「リリア」は川口駅西口にある施設で、「川口市役所」は青木地区にある施設です。
9	川口市内を走っている鉄道は、京浜東北線と埼玉高速鉄道と()である。 <input type="checkbox"/> ア 武蔵野線 <input type="checkbox"/> イ 京成線 <input type="checkbox"/> ウ 山手線	答え：ア 武蔵野線 解説：市内を走る鉄道は3本で、駅は全部で9駅です。 京浜東北線：川口、西川口 武蔵野線：東川口 埼玉高速鉄道：川口元郷、南鳩ヶ谷、鳩ヶ谷、新井宿、戸塚安行、東川口
10	川口市内を流れる見沼代用水には、「東べり」と「北べり」の2つの流れがある。○か×か。	答え：× 「東べり」と「西べり」 解説：見沼代用水の工事をしたのは「井沢弥惣兵衛」です。とても短い時間で大きな工事をやり遂げました。
11	新郷地区には、()貝塚がある。	答え：新郷 解説：現在は「新郷若宮公園」という名前の公園になっています。大昔の人たちが捨てていた貝がらがたくさんあります。
12	東京外かくかんじょう道路は、川口市内を東西に走っている。○か×か。	答え：○ 解説：川口市内を通る大きな道路は主に2つあります。「国道122号（東北自動車道）」と「国道298号（東京外郭環状道路）」です。国道122号は市内を南北に、国道298号は東西に走っています。
13	川口市内は、全部で()地区に分かれている。 <input type="checkbox"/> ア 5 <input type="checkbox"/> イ 8 <input type="checkbox"/> ウ 10	答え：ウ 10 解説：「横曽根地区」・「中央地区」・「南平地区」・「芝地区」・「青木地区」・「鳩ヶ谷地区」・「新郷地区」・「神根地区」・「安行地区」・「戸塚地区」があります。

14	川口市内には、戸塚地区、神根地区、芝地区、横曽根地区、中央地区、南平地区、新郷地区、安行地区、青木地区、()地区がある。	<p>答え：鳩ヶ谷</p> <p>解説：鳩ヶ谷地区は川口市内の真ん中に位置する地区です。かつて宿場町として栄えました。</p>
15	川口市で、植木畑が多いのは、神根地区や()である。 <input type="checkbox"/> ア 安行地区 <input type="checkbox"/> イ 南平地区 <input type="checkbox"/> ウ 新郷地区	<p>答え：ア 安行地区</p> <p>解説：安行の植木は今でも多くの職人さんが活躍しており、全国的にも有名です。江戸時代に安行に住んでいた「吉田権之丞」が安行植木の祖といわれています。</p>
16	川口市の「市の木」は、()である。 <input type="checkbox"/> ア 桃 <input type="checkbox"/> イ さざんか <input type="checkbox"/> ウ 杉	<p>答え：イ さざんか</p> <p>解説：市の花は「てっぼうユリ」です。また、11月10日は「川口の日」です。</p>
17	「いもの」の原料は、()である。 <input type="checkbox"/> ア 砂 <input type="checkbox"/> イ ねん土 <input type="checkbox"/> ウ 鉄	<p>答え：ウ 鉄</p> <p>解説：鉄を溶かして型に入れ、冷やして固めて作られるものが「いもの」です。川口には現在でも多くのいもの工場があります。</p>
18	現在、川口市の人口は、60万人をこえている。○か×か。	<p>答え：○</p> <p>解説：令和2年2月29日現在で、市内の人口は607,465人となっています。外国人の方も多く、約40,000人の外国人が市内に住んでいます。</p>
19	川口市内には、荒川やあやせ川、()など、たくさんの川が流れている。 <input type="checkbox"/> ア 入間川 <input type="checkbox"/> イ 芝川 <input type="checkbox"/> ウ 利根川	<p>答え：イ 芝川</p> <p>解説：「入間川」は川口市の西の方角に、利根川は川口市の北の方角にある川です。</p>
20	川口市で、工場が多いのは、南平地区や()である。 <input type="checkbox"/> ア 横曽根地区 <input type="checkbox"/> イ 神根地区 <input type="checkbox"/> ウ 新郷地区	<p>答え：ウ 新郷地区</p> <p>解説：南平地区・新郷地区には工業団地と呼ばれるたくさんの工場が集まった場所があります。工業団地は、物が運びやすいように大きな道路や高速道路の近くにあることが多いです。</p>
21	土地の低いところを()といい、荒川や芝川などが流れている。 <input type="checkbox"/> ア 低地 <input type="checkbox"/> イ 台地 <input type="checkbox"/> ウ ぼん地	<p>答え：ア 低地</p> <p>解説：川口市の南半分は低地で、大昔は海でした。大昔の遺跡が少ないのはそれが理由です。</p>

22	<p>川口市の面積は、約61.95(ヒント:「単位」です)である。</p> <p><input type="checkbox"/> ア 平方センチメートル</p> <p><input type="checkbox"/> イ 平方メートル</p> <p><input type="checkbox"/> ウ 平方キロメートル</p>	<p>答え:ウ 平方キロメートル</p> <p>解説:国や都市の大きさを表すときに使われる単位は「平方キロメートル」で、「km²」と書きます。埼玉県面積は約3,798km²です。</p>			
23	<p>川口総合文化センターの別名は、()である。</p>	<p>答え:リリア</p> <p>解説:川口駅西口にある大きな建物で、大きなイベントが開かれることがあります。</p>			
24	<p>川口市のマークはどれでしょうか?</p> <p><input type="checkbox"/> ア </p> <p><input type="checkbox"/> イ </p> <p><input type="checkbox"/> ウ </p>	<p>答え: </p> <p>解説:アは「埼玉県」のマーク、イは「アメリカ合衆国」の国旗です。埼玉県のマークには16個の勾玉が描かれています。</p>			
25	<p>川口市内にある武蔵野線の駅は、()である。</p> <p><input type="checkbox"/> ア 南浦和駅</p> <p><input type="checkbox"/> イ 東浦和駅</p> <p><input type="checkbox"/> ウ 東川口駅</p>	<p>答え:ウ 東川口駅</p> <p>解説:「東川口駅」は武蔵野線だけではなく、埼玉高速鉄道にもあります。「南浦和駅」・「東浦和駅」はさいたま市の駅です。</p>			
<table border="1" style="width:100%; border-collapse: collapse;"> <tr> <td style="width:33%; text-align: center;"> <p>★正解が21～25問の人</p> <p>おめでとうございます。 「川口名人」ですね。</p> </td> <td style="width:33%; text-align: center;"> <p>◎正解が10～20問の人</p> <p>がんばりましたね。もう少しで、「川口名人」ですね。</p> </td> <td style="width:33%; text-align: center;"> <p>○正解が0～9問の人</p> <p>次回は、「川口名人」をめざして、がんばりましょう。</p> </td> </tr> </table>			<p>★正解が21～25問の人</p> <p>おめでとうございます。 「川口名人」ですね。</p>	<p>◎正解が10～20問の人</p> <p>がんばりましたね。もう少しで、「川口名人」ですね。</p>	<p>○正解が0～9問の人</p> <p>次回は、「川口名人」をめざして、がんばりましょう。</p>
<p>★正解が21～25問の人</p> <p>おめでとうございます。 「川口名人」ですね。</p>	<p>◎正解が10～20問の人</p> <p>がんばりましたね。もう少しで、「川口名人」ですね。</p>	<p>○正解が0～9問の人</p> <p>次回は、「川口名人」をめざして、がんばりましょう。</p>			